

令和4年度入学者選抜学力検査本試験問題

社 会

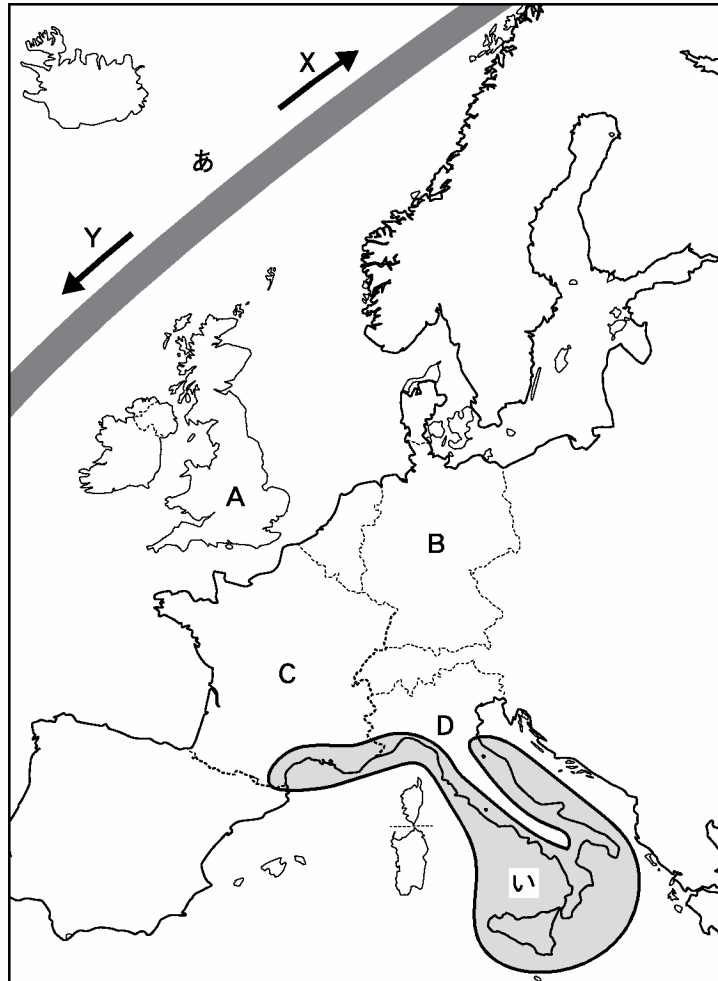
(配 点)	1 16点	2 12点	3 8点	4 8点
	5 12点	6 16点	7 16点	8 12点

(注意事項)

- 1 問題冊子は指示があるまで開かないこと。
- 2 問題冊子は1ページから14ページまでである。検査開始の合図のあとで確かめること。
- 3 検査中に問題冊子の印刷不鮮明、ページの落丁・乱丁及び解答用紙の汚れ等に気づいた場合は、静かに手を高く挙げて監督者に知らせること。
- 4 解答用紙に氏名と受験番号を記入し、受験番号と一致したマーク部分を塗りつぶすこと。受験番号が「0（ゼロ）」から始まる場合は、0（ゼロ）を塗りつぶすこと。
- 5 解答には、必ずHBの黒鉛筆を使用すること。なお、解答用紙に必要事項が正しく記入されていない場合、または解答用紙に記載してある「マーク部分塗りつぶしの見本」のとおりマーク部分が塗りつぶされていない場合は、解答が無効になることがある。
- 6 一つの解答欄に対して複数のマーク部分を塗りつぶしている場合、または指定された解答欄以外のマーク部分を塗りつぶしている場合は、有効な解答にはならない。
- 7 解答を訂正するときは、きれいに消して、消しくずを残さないこと。

- 1 次の図は、ヨーロッパを示した地図で、AからDは国を示している。この図を見て、問1から問4までの各問いに答えよ。

図



問1 図中のあは、北大西洋海流の流れているおおよその位置を示している。この海流について説明したものとして最も適当なものを、次のAからEのうちから一つ選べ。

- A 寒流であり、Xの方向に流れている。
- イ 寒流であり、Yの方向に流れている。
- ウ 暖流であり、Xの方向に流れている。
- E 暖流であり、Yの方向に流れている。

問2 図中のいこの範囲でおこなわれているおもな農業について説明したものとして最も適当なものを、次のアからエのうちから一つ選べ。

ア 草や水を求めてらくだや羊・やぎなどの家畜とともに移動しながら生活している。

イ 小麦やライ麦、じゃがいも、てんさいなどの畑作と、牛や豚などの飼育を組み合わせた農牧業がおこなわれている。

ウ 牧草を栽培して乳牛を飼い、バターやチーズなどの乳製品を生産している。

エ 夏にオリーブやぶどう、オレンジなどを栽培し、冬は小麦を栽培している。

問3 図中のAからDの国では、ゲルマン系またはラテン系のいずれかの言語を国の公用語としている。ゲルマン系の言語を公用語としている国の組み合わせとして正しいものを、次のアからカのうちから一つ選べ。

ア AとB

イ AとC

ウ AとD

エ BとC

オ BとD

カ CとD

問4 図中のAからDの国のうち、2020年にEU（ヨーロッパ連合）から離脱した国を、次のアからエのうちから一つ選べ。

ア A

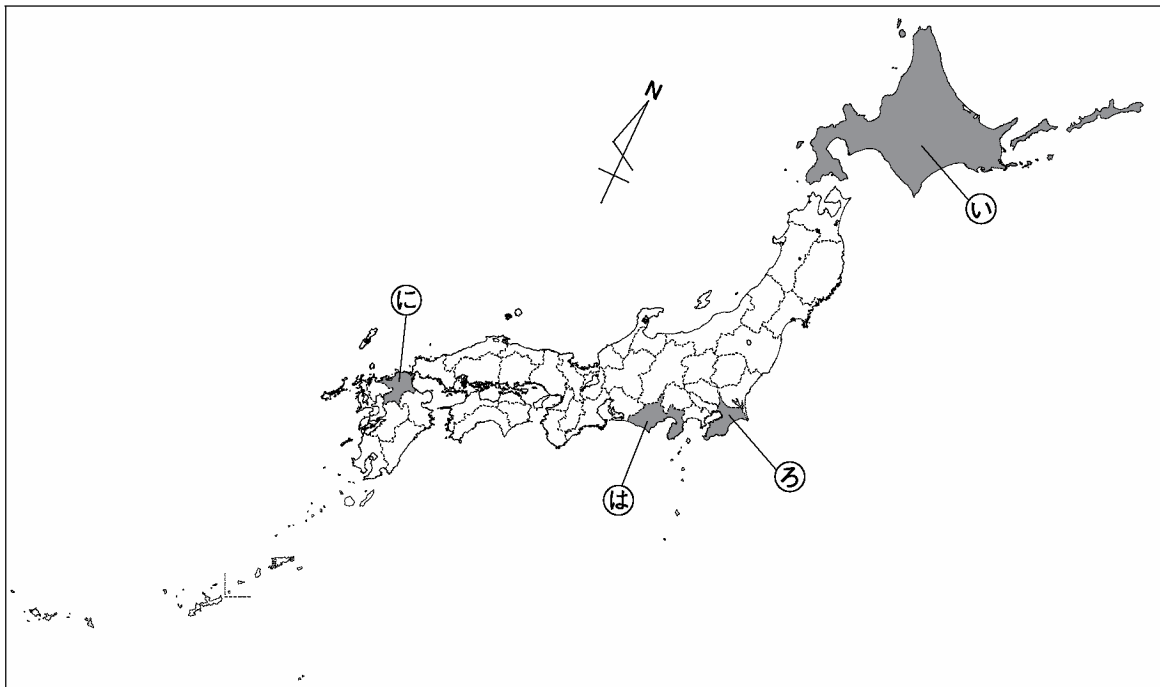
イ B

ウ C

エ D

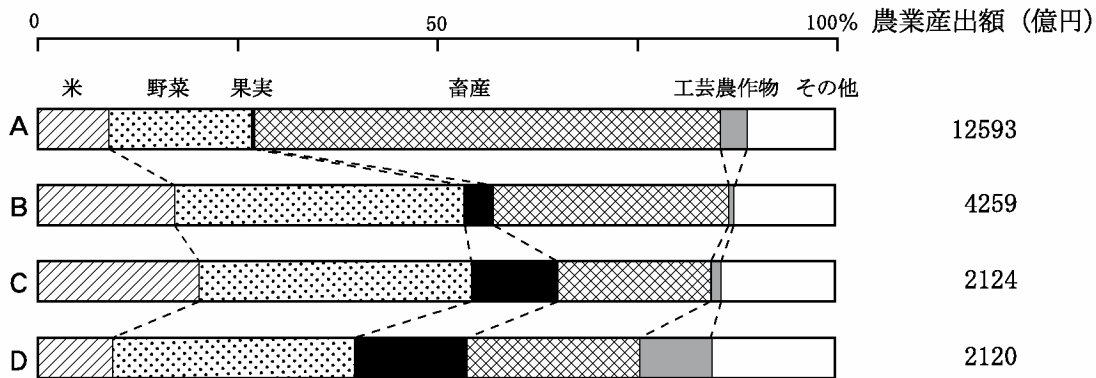
2 次の図1中の㉠から㉣について、問1から問3までの各問いに答えよ。

図1



問1 次の図2は、農業産出額とその内訳（比率）を示したものである。図2中のAからDは、図1中の㉠から㉣のいずれかの都道府県が当てはまる。図2中のDに当てはまる都道府県を、次のアからエのうちから一つ選べ。

図2 農業産出額とその内訳（2018年）



※工業農作物には、茶・葉たばこ・てんさい・さとうきびなどが含まれる。

（『データでみる県勢2021』より作成）

ア ㉠      イ ㉡      ウ ㉢      エ ㉣

問2 次ページの表1は、図1中の㉠から㉣の都道府県別の製造品出荷額とその上位4品目をまとめたものである。表1中のXからZには、石油・石炭製品、輸送用機械、鉄鋼のいずれかが当てはまる。XからZの品目の組み合わせとして正しいものを、次ページのAからFのうちから一つ選べ。

表1 都道府県の製造品出荷額とその上位4品目(2018年)

	総計 (億円)	製造品出荷額 上位4品目(構成比:%)			
		1位	2位	3位	4位
㉠	64136	食料品(34.8)	X(16.5)	Z(6.5)	パルプ・紙(6.2)
㉡	132118	X(23.7)	化学(17.8)	Z(13.2)	食料品(12.4)
㉢	176639	Y(25.4)	電気機械(13.9)	化学(10.8)	食料品(7.9)
㉣	103019	Y(34.4)	食料品(10.3)	Z(9.6)	飲料ほか(6.6)

(『データでみる県勢2021』より作成)

ア	X-石油・石炭製品	Y-輸送用機械	Z-鉄鋼
イ	X-石油・石炭製品	Y-鉄鋼	Z-輸送用機械
ウ	X-輸送用機械	Y-石油・石炭製品	Z-鉄鋼
エ	X-輸送用機械	Y-鉄鋼	Z-石油・石炭製品
オ	X-鉄鋼	Y-石油・石炭製品	Z-輸送用機械
カ	X-鉄鋼	Y-輸送用機械	Z-石油・石炭製品

問3 次の表2は、都道府県別の外国人延べ宿泊者数とその内訳(一部)を示したものである。表2中のPからSには、前ページの図1中の㉠から㉣のいずれかの都道府県が当てはまる。下の説明文を参考にして、表2中のQに当てはまる都道府県を、後のアからエのうちから一つ選べ。

表2 外国人延べ宿泊者数とその内訳(千人,2018年)

	外国人 宿泊者数	国籍別の宿泊者数			
		韓国	オーストラリア	アメリカ	シンガポール
P	4116	178	116	338	76
Q	3367	1565	16	63	34
R	8335	1374	142	164	335
S	1794	72	9	43	11

※延べ宿泊者数のため、宿泊人数×宿泊数で示している。

(『データでみる県勢2020』より作成)

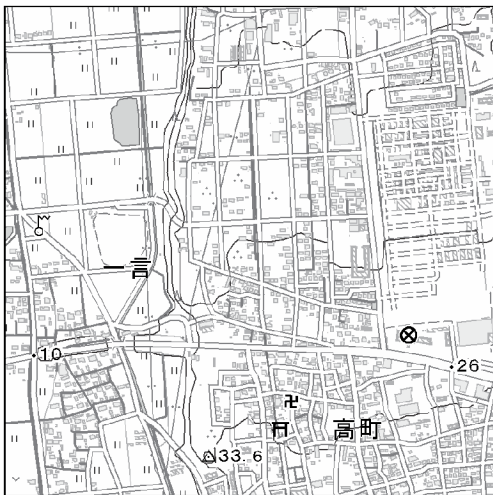
説明文

㉠	良質な雪を求めて観光客が訪れている。季節が逆となる南半球や赤道付近の国々からも人気の観光地となっている。
㉡	首都に近い国際空港があるため、観光だけでなくビジネスで来日する外国人も多い。また、世界的に人気のテーマパークがあり、ここを訪れる外国人観光客も多い。
㉢	世界ジオパークに認定された半島があり、観光地としても近年注目されている。また、複数の世界遺産もあり、地方自治体では外国人観光客の誘致に努めている。
㉣	大陸からの玄関口として、古くから船舶での往来が盛んな地域である。現代でもクルーズ船・高速船などを利用して入国する外国人観光客は多い。

ア ㉠      イ ㉡      ウ ㉢      エ ㉣

3 図1はある地域の2万5千分1地形図の一部（約1.5倍に拡大）であり、図2はそこから等高線のみを抜き出したものである。また、図3はこの地域のハザードマップから同じ範囲を抜き出したもの（一部改変）であるが、北が上とは限らない。問1、問2に答えよ。

図1 地形図（北が上）



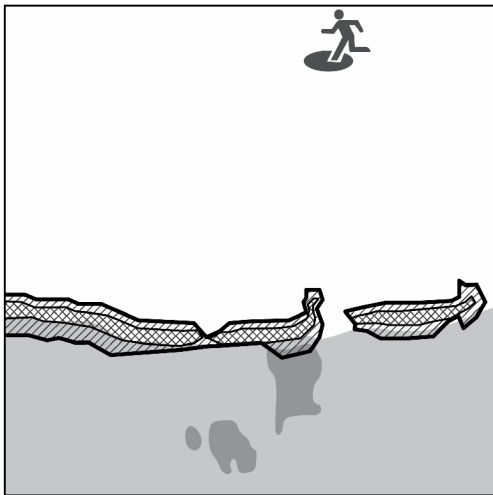
(国土地理院 電子地形図 25000)

図2 等高線のみを抜き出した地図（北が上）



(地理院地図による画像を加工して作成)

図3 ハザードマップ



- 浸水が想定される区域
  - 5m以上の浸水
  - 5m未満の浸水
- ある災害に警戒すべき区域
  - 特に警戒すべき区域
  - 警戒すべき区域
- 関連する施設
  - 避難場所

問1 図3において北はどちらの方向か。正しいものを次のアからエのうちから一つ選べ。

- ア 図の上    イ 図の下    ウ 図の左    エ 図の右

問2 図3中の「ある災害に警戒すべき区域」は、どのようなところで、どのような災害のおそれがあると考えられるか。図1、図2も参考に、最も適当なものを次のアからエのうちから一つ選べ。

- ア 平らな土地なので、地震の際に津波の被害が集中するおそれがある。
- イ 急な斜面なので、大雨の際に土砂崩れがおきるおそれがある。
- ウ 周囲より標高が低いので、洪水の際に著しく浸水するおそれがある。
- エ 周囲より標高が高いので、火山噴火の際に火山灰が集中的に降り注ぐおそれがある。

4 次の略年表を見て、問1、問2に答えよ。

略年表

日本の出来事	中国の出来事
大宝律令が施行される 藤原良房 <sup>よしふさ</sup> が摂政になる	隋がほろび、 <b>王朝A</b> が中国を統一する
白河上皇が院政をはじめ	<b>王朝A</b> がほろぶ <b>王朝B</b> がおこる
X	
建武の新政がおこなわれる	フビライ＝ハンが <b>王朝C</b> の皇帝となり、中国を支配する <b>王朝D</b> によって、 <b>王朝C</b> が北に追われる

問1 次の史料中の下線部「中国」には、略年表中の中国の王朝AからDのいずれかが当てはまる。史料中の「中国」と同じ王朝を、下のアからエのうちから一つ選べ。なお、史料は現代語に訳し、わかりやすくするために一部を補足したり省略したりしてある。

**史料**

12月21日。来年、中国に船を派遣することが決定した。…中略… 今日、これまで二度中国行きの船に乗っているある商人と語り合ったところ、勘合を用いた中国との交易で利益をあげるには、生糸まきの交易に勝るものはないという。日本から10貫文かんもん分の銅を運んで、中国で生糸に交換して持ち帰れば、日本で40貫文にも50貫文にもなるという。

(『大乘院寺社雑事記』)

※ 貫文…銭貨の単位

ア 王朝A                      イ 王朝B                      ウ 王朝C                      エ 王朝D

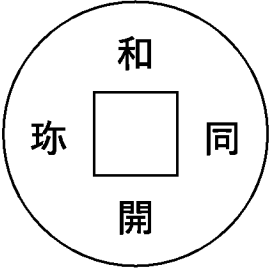
問2 略年表中の X の時期に、日本でおこった出来事として正しいものを、次のアからエのうちから一つ選べ。

- ア 宮廷で天皇のきさきに仕えた紫式部が『源氏物語』を書いた。
- イ 後鳥羽上皇は幕府を倒すために兵を挙げたが、敗れておき隠岐へ流された。
- ウ 天智天皇の死後、皇位継承をめぐるおこった内乱に勝利した天武天皇が即位した。
- エ 観阿弥と世阿弥の父子は、猿楽や田楽などの芸能から能を大成させた。

- 5 休日に博物館に行ったある生徒は、展示されていた貨幣かへいやその時代の状況に興味を持った。そこで、一部の貨幣をスケッチしたり、展示の説明を書き写したりして、年代順のまとめカードAからDともう一枚を作成した。これらを見て、問1から問3までの各問いに答えよ。

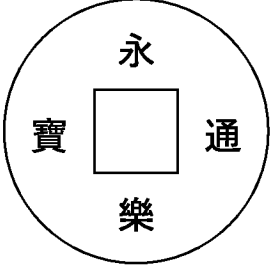
まとめカード

A



- 直径は 24 mm で、全国各地で出土する。
- 銅製と銀製の 2 種類があった。
- 当時の取引は物々交換が中心だったため、政府は貨幣の流通をうながす法令を出した。

B



- 定期市では中国から輸入された「洪武通寶こうぶつほう (宝)」や「永樂えいらく (楽) 通寶つうほう (宝)」などが使われた。
- 貨幣の流通が広がり、年貢を銭で納めることもあった。

C

- 石見銀山いわみでは、朝鮮半島から伝わった新しい技術によって銀の産出量が増加した。
- 世界の銀の産出量のうち、日本の銀が約 3 分の 1 を占めた。
- ポルトガル人イエズス会士が作成したという地図に、石見銀山が記された。
- 石見銀山で産出した銀で作られた銀貨が、文禄の役の戦費に使われた。

D

- 明治維新直後、政府は江戸時代の単位で通貨を発行した。
- 新貨条例によって、円・銭・厘りんという新しい通貨単位が制定され、1 円 = 100 銭 = 1000 厘と定められた。
- 明治時代の紙幣には、七福神でもある大黒天だいこくてんや、菅原道真や中臣鎌足などの肖像が用いられた。



問1 生徒が博物館で書き写した次の史料と関連しているまとめカードとして最も適当なものを、下のアからエのうちから一つ選べ。なお、史料は現代語に訳し、わかりやすくするために一部を補足したり省略したりしてある。

史料

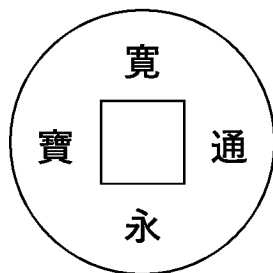
およそ銭というものは、売買を行うのに有益なものである。ところが、いまでも人々は古い習慣に従って、いまだにその道理を理解していない。わずかに銭を用いて売買するといっても、蓄える者はほとんどいない。そこで、銭を蓄えた額の多少に応じて、等級・段階を設けて位を授けることにした。従六位じゅうろくゐ以下で、10貫以上の銭を蓄えた者には、位を一階昇進させる。20貫以上の銭を蓄えた者には、位を二階昇進させる。

ア A                    イ B                    ウ C                    エ D

問2 前ページのまとめカードCの内容と関連する説明として正しいものを、次のアからエのうちから一つ選べ。

- ア 南蛮貿易によって、ヨーロッパの天文学や医術などがもたらされた。
- イ 渡来人によって、須恵器すゑきをつくる技術や漢字を書く文化がもたらされた。
- ウ アラビア半島でイスラム教が成立し、イスラム商人は東アジアにも進出した。
- エ イギリスで大量生産された綿織物が、アジアに安い価格で輸出された。

問3 左下のカードは生徒が作成したもう一枚のまとめカードである。前ページのAからDのまとめカードと合わせて年代の古い順に並べたとき、左下のカードが入る時期として最も適当なものを、右下のアからオのうちから一つ選べ。



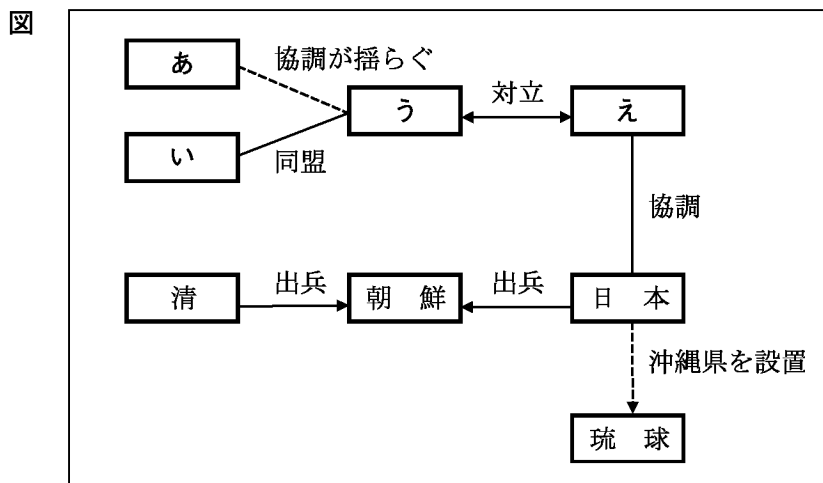
- 銅製で全国各地に流通した。
- この銅銭のほか、小判などの金貨や丁銀ちやうぎんなどの銀貨がつけられた。
- 銅銭は全国に普及したが、東日本では金貨、西日本では銀貨が流通した。

- ア Aの前
- イ AとBの間
- ウ BとCの間
- エ CとDの間
- オ Dの後

6 問1から問4までの各問いに答えよ。

問1 次の図は、沖縄県が設置されてからの15年間の国際関係の一部を模式的に表したものである。

下の説明を参考にして、図中のあからえに入る国名の組み合わせとして正しいものを、後のアからエのうちから一つ選べ。



- 説明
- ・あの国の憲法は、図の時期に日本で発布された憲法の参考の一つになった。
  - ・い、う、えの国は、それぞれ江戸時代から日本と修好通商条約を結んでいた。
  - ・うの国は、沖縄県設置の4年前に日本と領土の取り決めに関する条約を結んだ。
  - ・えの国は、図の時期に日本との条約を修正し、領事裁判権（治外法権）を撤廃した。

- |          |        |        |        |
|----------|--------|--------|--------|
| ア あーフランス | いーアメリカ | うーイギリス | えードイツ  |
| イ あーフランス | いードイツ  | うーアメリカ | えーイギリス |
| ウ あードイツ  | いーフランス | うーロシア  | えーイギリス |
| エ あードイツ  | いーイギリス | うーロシア  | えーアメリカ |

問2 次のaからfの出来事は年代の古い順に並んでいる。図の時期をこれらの出来事の間<sup>に</sup>当てはめた場合に正しいものを、下のアからカのうちから一つ選べ。

- 出来事
- |   |  |
|---|--|
| a | 三井家 <small>みつい</small> が江戸で開いた越後屋 <small>えちご</small> が「現金かけねなし」を方針として繁盛 <small>はんじょう</small> した。 |
| b | 横浜の港で外国との貿易がはじまった。   |
| c | 八幡製鉄所が操業を開始した。   |
| d | 米の安売りを求める騒動が富山県から全国に広がった。  |
| e | 世界恐慌の影響が日本にもおよび、まゆや生糸の価格が暴落した。   |
| f | 財閥が解体され、独占禁止法が制定された。   |

- |         |         |         |
|---------|---------|---------|
| ア aとbの間 | イ bとcの間 | ウ cとdの間 |
| エ dとeの間 | オ eとfの間 | カ fの後   |

問3 次の史料はある人物の日記である。この史料が示す事柄がおきた時期を前ページの出来事の間  
に当てはめた場合に正しいものを、下のアからカのうちから一つ選べ。なお、史料は現代語に訳  
し、一部を変えたり省略したりしてある。

史料

九月一日土曜 晴

……十一時五十八分ごろ、大地が大きく揺れた。私たちはなお話を続けていた。地震はますます激しくなり、壁土が落ちてきた。私と同僚は思わず走り出て、非常口を出て渡り廊下を過ぎた。歩けないほどだった。無理に走って屋外に出た。十分ほどの間、地震が続いた。私は審査局にたどり着き、書類や帽子を取ってこようと思って渡り廊下のあたりに行った。また揺れが来た。それでまた走り出た。……馬車か自動車に乗りたいたいと思って……問い合わせをさせたが、混み合っていてかなわなかったのので、歩いて帰った。……参謀本部前を過ぎ、ドイツ大使館の前から赤坂見附あかさかみつけを通って家に帰った。皇居の前の広場に出たとき、警視庁付近と目比谷公園ひびやの中で火が出ているのを見た。参謀本部前を過ぎるときには赤坂で出火しているのを見た。道沿いにところどころ家屋が倒壊しているところがあった。避難する人々は皆屋外に出ていた。家にたどり着くと、門の横から家の周りを囲むレンガ塀は全部倒壊し、屋内の家具やものは散乱していて、人影も見えなかった。……

(枢密顧問官兼帝室会計審査局長官であった倉富勇三郎の日記)

※ 「……」は省略した箇所を示す。

ア aとbの間

イ bとcの間

ウ cとdの間

エ dとeの間

オ eとfの間

カ fの後

問4 前ページの出来事 a から d の説明として誤っているものを、次のアからエのうちから一つ選べ。

ア a の三井家みついは豪商として富を蓄え、のちに様々な事業を多角的に経営する財閥に成長した。

イ b の横浜と新橋とを結んだ路線が、日本で最初に開通した鉄道路線であった。

ウ c の八幡製鉄所は、需要が高まっていた鉄鋼の国産化を目指して、福岡県に建設された。

エ d の騒動は、第一次世界大戦中の不況と食料不足による米価格の高騰こうとうが原因であった。

7 次の生徒による発表文を読み、問1から問4までの各問いに答えよ。

私たちは、日本の憲法に基づいた政治制度の歴史と現在の形、その課題について調べて考察しました。現在では日本国憲法に基づいて(1)国会と内閣、裁判所による三権分立に基づいて民主的な政治制度が整っていますが、(2)戦前でもその仕組みと考え方を追求した時期がありました。戦後になると政治制度は整いましたが、社会が発展するにしたがって日本国憲法には記載されていない権利があるという考え方も広がり、それらは(3)新しい人権として裁判などで主張されるようになりました。一方、(4)日本国憲法で保障されている基本的人権についても十分とは言えないこともあり、「基本的人権の尊重」を達成するための政治制度や社会のあり方が求められています。

問1 下線部(1)に関連して、現在の日本の国会と内閣についての記述として正しいものを、次のアからエのうちから一つ選べ。

ア 内閣を構成するその他の大臣は国会議員でなくとも選ばれることがあるが、内閣総理大臣は国民の直接選挙によって最終的に決定される。

イ 内閣は国会に対して連帯して責任を負うという議院内閣制をとっており、内閣総理大臣は国会議員の中から選ばれる。

ウ 国会は衆議院、参議院の二院制をとっており、アメリカ連邦議会と同様に二院の権限は憲法で優劣がないように定められている。

エ 国会における議決は過半数の多数決であるが、安全保障に関する予算案や法律案の議決については両院とも3分の2以上の賛成が必要である。

問2 下線部(2)に関連して、1910年代に民主的な政治の仕組みを追求した運動と、そのころに活躍した人物、その人物が主張した考え方の組み合わせとして正しいものを、次のアからカのうちから一つ選べ。

	1910年代の運動	人物	その人物が主張した考え方
ア	自由民権運動	福沢諭吉	平和五原則
イ	自由民権運動	犬養毅	民本主義
ウ	自由民権運動	吉野作造	平和五原則
エ	大正デモクラシー	福沢諭吉	民本主義
オ	大正デモクラシー	犬養毅	平和五原則
カ	大正デモクラシー	吉野作造	民本主義

問3 下線部(3)に関連して、次の資料は、弁護士の団体が新しい人権の保障について発したものである。資料中の下線部に着目して、この内容を反映している具体例として最も適当なものを、下のアからエのうちから一つ選べ。

資料

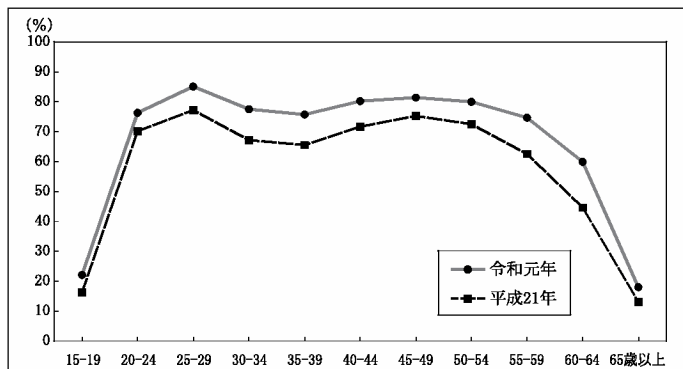
個人が尊重される民主主義社会の実現のためには、その手段である民主制の過程が健全に機能しなければならない。代表民主制下において国民が自律的に代表者を選任し政策形成に参加するためには、公的情報が国民に対して十分に公開されていることが不可欠である。そのためには、知る権利の保障の充実と、情報公開を促進する制度の整備が必要である。

(日本弁護士連合会の資料より作成)

- ア ある民間企業が、一人ひとりの個人の行動範囲や人が集まりやすい場所や時間などについての膨大な量の情報を収集し、それに基づいて商品を売る量や経営に力を入れる店舗を決めたり、消費者の隠れた好みなどを探り当てたりすること。
- イ 日本の政府が、すべての国民に個人の番号を割り振り、選挙権の行使や納税の状況などの情報を一元的に管理し、その情報を犯罪防止のために警察に常時伝えるとともに、個人の支持政党を知りたい他の個人に選挙権の行使の状況を公開すること。
- ウ 日本の地方公共団体が、予算の執行や事業の進捗の状況を、住民の求めに応じて適正な手続きに則って公開できるようにし、不正や汚職などがおこなわれていないかどうかを住民自身が確認するのに役立てられるようにすること。
- エ ある国際機関が、国際経済の成長に関する目標を定め、それぞれの加盟国が目標を達成するために取り組むことを義務化し、目標達成についての情報を国際機関のみが持った上で加盟国を集めて会議を開き、加盟国の協調をはかろうとすること。

問4 下線部(4)に関連して、この発表をした生徒は基本的人権の尊重についての課題を後日調べたところ、左下のようなグラフを見つけた。これは平成21年と令和元年の、5歳ごとの年齢階級における日本での何らかの割合を示しており、折れ線グラフが描く形が特徴的であるという。このグラフが示している事柄として正しいものを、右下のアからエのうちから一つ選べ。

グラフ



- ア 女性の大学進学率
- イ 女性の労働力率
- ウ 男性の大学進学率
- エ 男性の労働力率

8 次の生徒と先生の会話文を読み、問1から問3までの各問いに答えよ。

生徒：お札のデザインが新しくなると聞きました。新しい一万円札の肖像はしげさわえいいち渋沢栄一だそうです。でも紙のお金が、印刷されている金額で取引に使われるのは不思議に思えます。

先生：お金の価値は、中央銀行である日本銀行が現金や預金などの通貨量を調整することで、その価値を安定させているのです。だから、お金の価値は印刷されただけでは、必ずしも安定的ではありません。(1)社会全体で取引される商品総額や企業などが借りたいと思うお金の量などに対して、お金が不足したり逆に余ったりすることで、お金の価値は変化することがあるのです。中央銀行は、市場に出回るお金の量が少なすぎたり、多すぎたりしないようにすることで、お金の価値を安定させて、その信用がある程度保たれるようにしているのです。

生徒：日本銀行の役割は、お金の価値を安定させることなのですね。

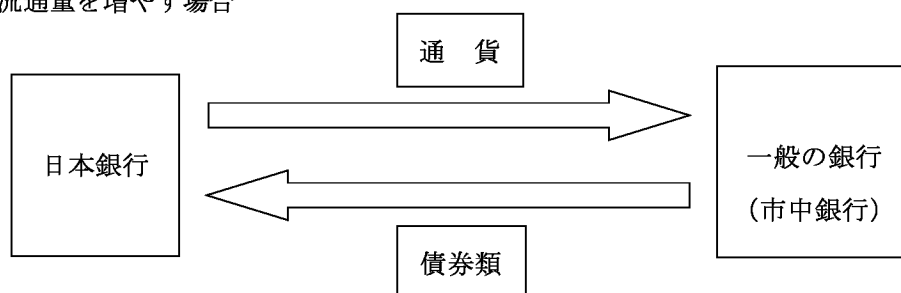
先生：それだけではありません。(2)景気が良くなったり悪くなったりしたときに、お金の流通量を意図的に増やしたり減らしたりして、景気を操作しようとすることもしています。

生徒：そういえば、景気を回復させる方法として、世界恐慌が発生したことから、アメリカでは(3)ニューディール政策を実施したと、授業で教わりました。

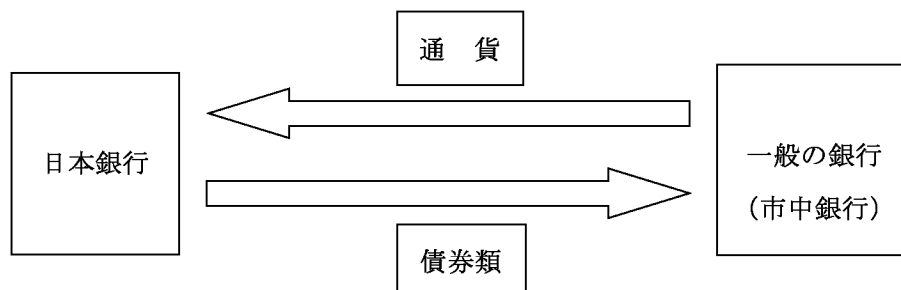
先生：そうですね。中央銀行だけでなく、政府が直接景気回復のためにそのような積極的な経済政策をおこなう場合もあります。

図 日本銀行がおこなう公開市場操作の仕組み

通貨流通量を増やす場合



通貨流通量を減らす場合



※「債券類」とは、国や企業が借金をするときに発行する証書のことを指す。

問1 下線部(1)に関連して、インフレーションと通貨価値の関係についての説明として正しいものを、次のアからエのうちから一つ選べ。

- ア インフレーションは、物価が下がり続けることで、そのため通貨価値も実質的に下がる。
- イ インフレーションは、物価が下がり続けることで、そのため通貨価値は実質的に上がる。
- ウ インフレーションは、物価が上がり続けることで、そのため通貨価値も実質的に上がる。
- エ インフレーションは、物価が上がり続けることで、そのため通貨価値は実質的に下がる。

問2 下線部(2)に関連して、日本銀行はおもに前ページの図のような操作をおこない、通貨量を増減させている。この仕組みについての説明およびその効果についての説明として正しいものを、次のアからエのうちから一つ選べ。

- ア 日本銀行が、市中銀行へ国債や手形を売ると、市場に流れる資金量が増加して、企業などの経済活動が停滞する。
- イ 日本銀行が、市中銀行へ国債や手形を売ると、市場に流れる資金量が増加して、企業などの経済活動が活発化する。
- ウ 日本銀行が、市中銀行から国債や手形を買くと、市場に流れる資金量が増加して、企業などの経済活動が停滞する。
- エ 日本銀行が、市中銀行から国債や手形を買くと、市場に流れる資金量が増加して、企業などの経済活動が活発化する。

問3 下線部(3)に関連して、ニューディール政策の説明として正しいものを、次のアからエのうちから一つ選べ。

- ア 政府が、ダム建設などの公共投資をおこなって、失業者に仕事を与えられるようにして、社会全体での所得を増やして、景気を回復することをめざした。
- イ 政府が、工場や農地などを国有化し、計画経済をおこなって、失業者を国が雇用することで、景気を回復することをめざした。
- ウ 政府が、議会制民主主義を否定し独裁政権を作り、外国資本の導入により開発をおこない、景気を回復することをめざした。
- エ 政府が、大企業や高額所得者に対して減税をして、投資をおこないやすいように規制緩和を実施し、景気を回復することをめざした。